






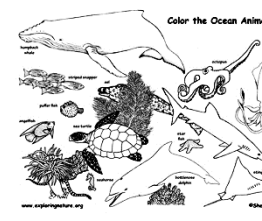
桃園市立建國國中 111 學年度七年級第二學期自然科學領域補考作業

班 級	座 號	姓 名	版 本	範 圍	得 分
			康軒	第二冊	







◎填充題：請依下列代號，將各生態系代表性生物填入正確答案格中(每格 10 分)。

代號	生物	代號	生物	代號	生物	代號	生物
A	大型樹木	B	草本植物	C	仙人掌	D	藻類及水生植物
E	蘆葦及紅樹林	F	台灣獼猴	G	獅子	H	駱駝
I	招潮蟹	J	大翅鯨				

※請將()所指代表性生物代號填入：

生態系	生產者	消費者
森林生態系 	()	()
草原生態系 	()	()
沙漠生態系 	()	()
淡水生態系 	()	昆蟲、螺、 貝、蝦、 蟹、魚 類.....
河口生態系 	()	()
海洋生態系 	藻類	()

※參考答案：

生態系	生產者	消費者
森林生態系 	(A)	(F)
草原生態系 	(B)	(G)
沙漠生態系 	(C)	(H)
淡水生態系 	(D)	昆蟲、螺、 貝、蝦、 蟹、魚 類.....
河口生態系 	(E)	(I)
海洋生態系 	藻類	(J)

※圖片來源：

- <https://drukowanka.pl/en/kolorowanka/tropical-forest-with-animals/>
- <https://stock.adobe.com/tw/images/sketch-of-the-african-savanna-with-trees-and-elephants-hand-drawn-illustration-converted-to-vector/267858279>
- <https://www.exploringnature.org/db/view/Energy-Flow-Between-Desert-Organisms-Model-Building-6-8-Grade-NGSS>
- <https://news.idea-show.com/post/%E3%80%8C%E6%A3%AE%E6%9E%97%E5%B0%8F%E7%95%AB%E5%AE%B6%EF%BC%8E%E5%8D%97%E5%B3%B6%E6%A3%AE%E6%9E%97%E9%81%8A%E8%B9%A4%E8%B6%A3%E3%80%8D%E5%89%B5%E6%84%8F%E7%AB%A5%E6%A8%82%E7%B9%AA%E8%91%97%E8%89%B2/2/>
- <https://education.nationalgeographic.org/resource/world-wetlands-day/prekth-grade/>
- <https://www.pinterest.com/pin/420382946458872081/>